

Тренировочная работа №4 по МАТЕМАТИКЕ

9 класс

6 марта 2024 года

Вариант МА2390401

Выполнена: ФИО _____ класс _____

Инструкция по выполнению работы

Работа состоит из двух частей, включающих в себя 25 заданий. Часть 1 содержит 19 заданий, часть 2 содержит 6 заданий с развёрнутым ответом.

На выполнение работы по математике отводится 3 часа 55 минут (235 минут).

Ответы к заданиям 7 и 13 запишите в виде одной цифры, которая соответствует номеру правильного ответа.

Для остальных заданий части 1 ответом является число или последовательность цифр. Если получилась обыкновенная дробь, ответ запишите в виде десятичной.

Решения заданий части 2 и ответы к ним запишите на отдельном листе бумаги. Задания можно выполнять в любом порядке. Текст задания переписывать не надо, необходимо только указать его номер.

Сначала выполняйте задания части 1. Начать советуем с тех заданий, которые вызывают у Вас меньше затруднений, затем переходите к другим заданиям. Для экономии времени пропускайте задание, которое не удаётся выполнить сразу, и переходите к следующему. Если у Вас останется время, Вы сможете вернуться к пропущенным заданиям.

При выполнении части 1 все необходимые вычисления, преобразования выполняйте в черновике. **Записи в черновике, а также в тексте контрольных измерительных материалов не учитываются при оценивании работы.**

Если задание содержит рисунок, то на нём непосредственно в тексте работы можно выполнять необходимые Вам построения. Рекомендуем внимательно читать условие и проводить проверку полученного ответа.

При выполнении работы Вы можете воспользоваться справочными материалами, выданными вместе с вариантом КИМ, и линейкой.

Баллы, полученные Вами за выполненные задания, суммируются. Постарайтесь выполнить как можно больше заданий и набрать наибольшее количество баллов.

После завершения работы проверьте, чтобы ответ на каждое задание был записан под правильным номером.

Желаем успеха!

Часть 1

Ответами к заданиям 1–19 являются число или последовательность цифр.

Прочитайте внимательно текст и выполните задания 1–5.

Хозяин дачного участка строит баню с парным отделением. Парное отделение имеет следующие размеры: длина — 3,5 м, ширина — 2,2 м, высота — 2 м. Окон в парном отделении нет, для доступа внутрь планируется дверь шириной 60 см, высота дверного проёма — 1,8 м. Для прогрева парного отделения можно использовать электрическую или дровяную печь. В таблице представлены характеристики трёх печей.

Номер печи	Тип	Объём помещения (куб. м)	Масса (кг)	Стоимость (руб.)
1	дровяная	8–12	40	18 000
2	дровяная	10–16	48	19 500
3	электрическая	9–15,5	15	15 000

Для установки дровяной печи дополнительных затрат не потребуется. Установка электрической печи потребует подведения специального кабеля, что обойдётся в 6500 руб.

1 Установите соответствие между массами и номерами печей.

Заполните таблицу, в ответе запишите последовательность трёх цифр без пробелов, запятых и других дополнительных символов.

Масса (кг)	15	40	48
Номер печи			

Ответ: _____.

2 Найдите площадь пола парного отделения строящейся бани. Ответ дайте в квадратных метрах.

Ответ: _____.

3 На сколько рублей покупка дровяной печи, подходящей по объёму парного отделения, обойдётся дешевле электрической с учётом установки?

Ответ: _____.

- 4 На дровяную печь, масса которой равна 40 кг, сделали скидку 10 %. Сколько рублей стала стоить печь?

Ответ: _____.

- 5 Хозяин выбрал дровяную печь (рис. 1). Чертёж передней панели печи показан на рис. 2.




Рис. 1

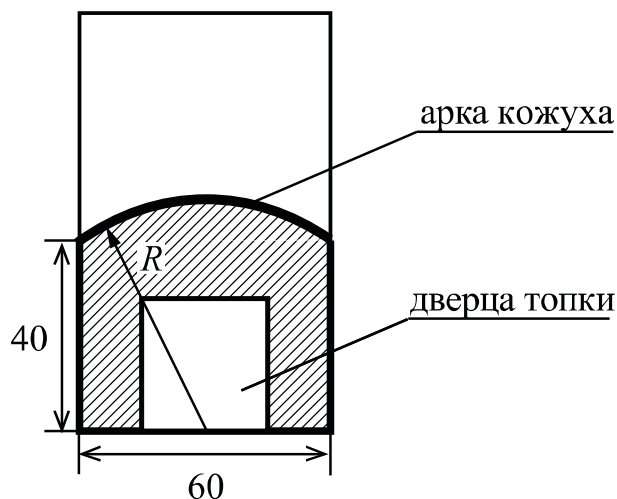


Рис. 2

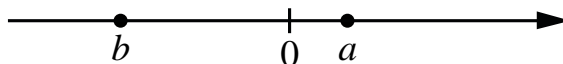
Печь снабжена кожухом вокруг дверцы топки. Верхняя часть кожуха выполнена в виде арки, приваренной к передней стенке печки по дуге окружности с центром в середине нижней части кожуха (рис. 2). Для установки печки хозяину понадобилось узнать радиус закругления арки R . Размеры кожуха в сантиметрах показаны на рисунке. Найдите радиус закругления арки в сантиметрах.

Ответ: _____.

- 6 Найдите значение выражения $30 - 0,8 \cdot (-10)^2$.

Ответ: _____.

7 На координатной прямой отмечены числа a и b .



Какое из приведённых утверждений для этих чисел **неверно**?

- 1) $ab^2 < 0$ 2) $a - b > 0$ 3) $a + b < 0$ 4) $ab < 0$

Ответ:

8 Найдите значение выражения $\sqrt{\frac{1}{4} \cdot x^8 y^4}$ при $x = 2$ и $y = 3$.

Ответ: _____.

9 Найдите корень уравнения $4(x - 8) = -5$.

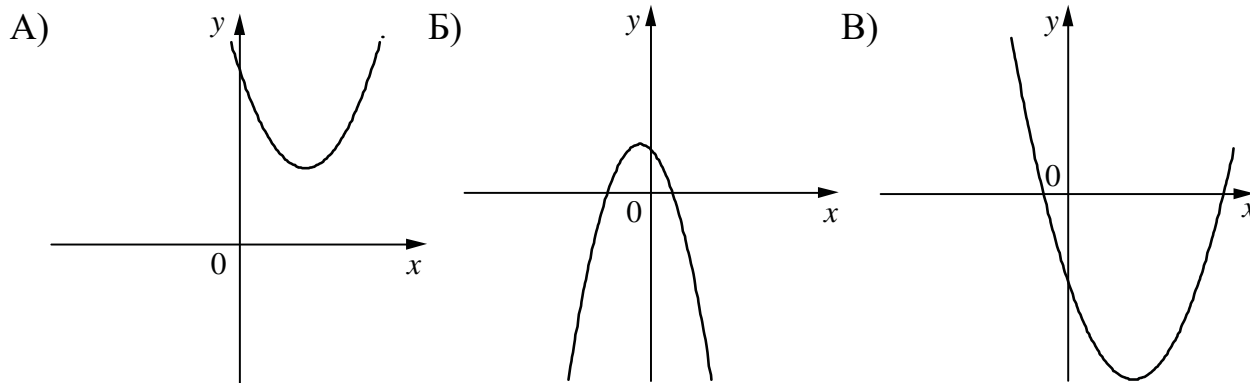
Ответ: _____.

10 В среднем из 100 карманных фонариков, поступивших в продажу, восемь неисправных. Найдите вероятность того, что выбранный наудачу в магазине фонарик окажется исправен.

Ответ: _____.

- 11** На рисунках изображены графики функций вида $y = ax^2 + bx + c$. Установите соответствие между графиками функций и знаками коэффициентов a и c .

ГРАФИКИ



КОЭФФИЦИЕНТЫ

- 1) $a > 0, c > 0$ 2) $a > 0, c < 0$ 3) $a < 0, c > 0$

В таблице под каждой буквой укажите соответствующий номер.

Ответ:

А	Б	В

- 12** Закон Кулона можно записать в виде $F = k \cdot \frac{q_1 q_2}{r^2}$, где F — сила взаимодействия зарядов (в ньютонах), q_1 и q_2 — величины зарядов (в кулонах), k — коэффициент пропорциональности (в $\text{Н} \cdot \text{м}^2 / \text{Кл}^2$), а r — расстояние между зарядами (в метрах). Пользуясь формулой, найдите величину заряда q_1 (в кулонах), если $k = 9 \cdot 10^9 \text{ Н} \cdot \text{м}^2 / \text{Кл}^2$, $q_2 = 0,0006 \text{ Кл}$, $r = 3000 \text{ м}$, а $F = 0,00018 \text{ Н}$.

Ответ: _____.

- 13** Укажите неравенство, которое **не имеет** решений.

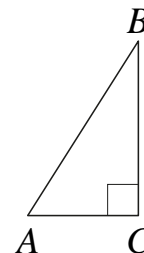
- 1) $x^2 - 5x + 53 < 0$ 3) $x^2 - 5x + 53 > 0$
 2) $x^2 - 5x - 53 < 0$ 4) $x^2 - 5x - 53 > 0$

Ответ:

- 14** В ходе распада радиоактивного изотопа его масса уменьшается вдвое каждые 8 минут. В начальный момент масса изотопа составляла 320 мг. Найдите массу изотопа через 48 минут. Ответ дайте в миллиграммах.

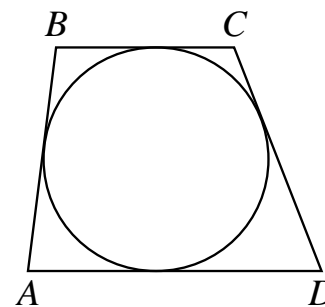
Ответ: _____.

- 15** В треугольнике ABC угол C равен 90° , $\sin B = \frac{5}{17}$, $AB = 51$. Найдите AC .



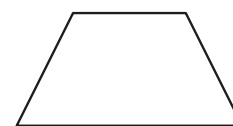
Ответ: _____.

- 16** Трапеция $ABCD$ с основаниями AD и BC описана около окружности, $AB = 11$, $BC = 5$, $CD = 13$. Найдите AD .



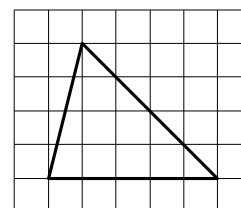
Ответ: _____.

- 17** В равнобедренной трапеции сумма двух углов равна 102° . Найдите больший угол этой трапеции. Ответ дайте в градусах.



Ответ: _____.

- 18** На клетчатой бумаге с размером клетки 1×1 изображён треугольник. Найдите его площадь.



Ответ: _____.

19 Какое из следующих утверждений верно?

- 1) Диагонали ромба точкой пересечения делятся пополам.
- 2) В тупоугольном треугольнике все углы тупые.
- 3) Каждая из биссектрис равнобедренного треугольника является его высотой.

В ответе запишите номер выбранного утверждения.

Ответ:

Часть 2

При выполнении заданий 20–25 используйте отдельный лист бумаги. Сначала укажите номер задания, а затем запишите его решение и ответ. Пишите чётко и разборчиво.

20

Решите систему уравнений
$$\begin{cases} (x-4)(y-7) = 0, \\ \frac{y-5}{x+y-9} = 2. \end{cases}$$

21

Первая труба пропускает на 15 литров воды в минуту меньше, чем вторая труба. Сколько литров воды в минуту пропускает вторая труба, если резервуар объёмом 100 литров она заполняет на 6 минут быстрее, чем первая труба?

22

Постройте график функции

$$y = \frac{1}{2} \left(\left| \frac{x}{3} - \frac{3}{x} \right| + \frac{x}{3} + \frac{3}{x} \right).$$

Определите, при каких значениях m прямая $y = m$ имеет с графиком ровно одну общую точку.

23

Отрезки AB и CD являются хордами окружности. Найдите длину хорды CD , если $AB = 24$, а расстояния от центра окружности до хорд AB и CD равны соответственно 16 и 12.

24

Биссектрисы углов A и D параллелограмма $ABCD$ пересекаются в точке K , лежащей на стороне BC . Докажите, что K — середина BC .

25

Точки M и N лежат на стороне AC треугольника ABC на расстояниях соответственно 9 и 32 от вершины A . Найдите радиус окружности, проходящей через точки M и N и касающейся луча AB , если $\cos \angle BAC = \frac{2\sqrt{2}}{3}$.

Тренировочная работа №4 по МАТЕМАТИКЕ

9 класс

6 марта 2024 года

Вариант МА2390402

Выполнена: ФИО _____ класс _____

Инструкция по выполнению работы

Работа состоит из двух частей, включающих в себя 25 заданий. Часть 1 содержит 19 заданий, часть 2 содержит 6 заданий с развёрнутым ответом.

На выполнение работы по математике отводится 3 часа 55 минут (235 минут).

Ответы к заданиям 7 и 13 запишите в виде одной цифры, которая соответствует номеру правильного ответа.

Для остальных заданий части 1 ответом является число или последовательность цифр. Если получилась обыкновенная дробь, ответ запишите в виде десятичной.

Решения заданий части 2 и ответы к ним запишите на отдельном листе бумаги. Задания можно выполнять в любом порядке. Текст задания переписывать не надо, необходимо только указать его номер.

Сначала выполняйте задания части 1. Начать советуем с тех заданий, которые вызывают у Вас меньше затруднений, затем переходите к другим заданиям. Для экономии времени пропускайте задание, которое не удаётся выполнить сразу, и переходите к следующему. Если у Вас останется время, Вы сможете вернуться к пропущенным заданиям.

При выполнении части 1 все необходимые вычисления, преобразования выполняйте в черновике. **Записи в черновике, а также в тексте контрольных измерительных материалов не учитываются при оценивании работы.**

Если задание содержит рисунок, то на нём непосредственно в тексте работы можно выполнять необходимые Вам построения. Рекомендуем внимательно читать условие и проводить проверку полученного ответа.

При выполнении работы Вы можете воспользоваться справочными материалами, выданными вместе с вариантом КИМ, и линейкой.

Баллы, полученные Вами за выполненные задания, суммируются. Постарайтесь выполнить как можно больше заданий и набрать наибольшее количество баллов.

После завершения работы проверьте, чтобы ответ на каждое задание был записан под правильным номером.

Желаем успеха!

Часть 1

Ответами к заданиям 1–19 являются число или последовательность цифр.

Прочитайте внимательно текст и выполните задания 1–5.

Хозяин дачного участка строит баню с парным отделением. Парное отделение имеет следующие размеры: длина — 3,5 м, ширина — 2,2 м, высота — 2 м. Окон в парном отделении нет, для доступа внутрь планируется дверь шириной 60 см, высота дверного проёма — 1,8 м. Для прогрева парного отделения можно использовать электрическую или дровяную печь. В таблице представлены характеристики трёх печей.

Номер печи	Тип	Объём помещения (куб. м)	Масса (кг)	Стоимость (руб.)
1	дровяная	8–12	40	18 000
2	дровяная	10–16	48	19 500
3	электрическая	9–15,5	15	15 000

Для установки дровяной печи дополнительных затрат не потребуется. Установка электрической печи потребует подведения специального кабеля, что обойдётся в 6500 руб.

- 1** Установите соответствие между объёмами помещения и номерами печей, для которых данный объём является наименьшим для отопления помещений. Заполните таблицу, в ответе запишите последовательность трёх цифр без пробелов, запятых и других дополнительных символов.

Объём (куб. м)	8	9	10
Номер печи			

Ответ: _____.

- 2** Найдите суммарную площадь стен парного отделения строящейся бани (без площади двери). Ответ дайте в квадратных метрах.

Ответ: _____.

- 3** На сколько рублей покупка дровяной печи, подходящей по объёму парного отделения, обойдётся дороже электрической без учёта установки?

Ответ: _____.

- 4 На дровяную печь, масса которой равна 48 кг, сделали скидку 10 %. Сколько рублей стала стоить печь?

Ответ: _____.

- 5 Хозяин выбрал дровяную печь (рис. 1). Чертёж передней панели печи показан на рис. 2.




Рис. 1

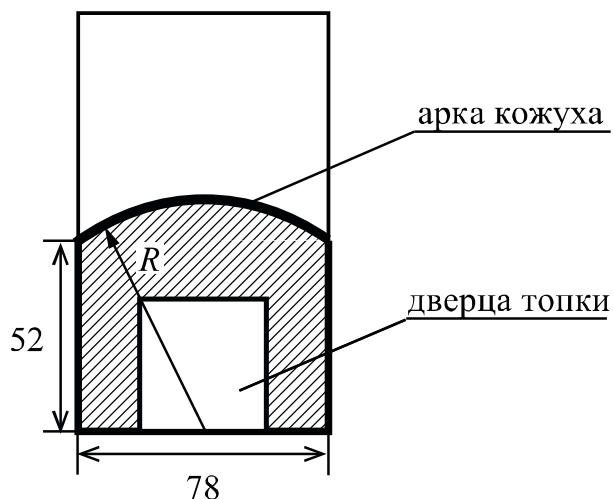


Рис. 2

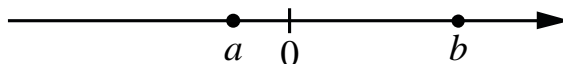
Печь снабжена кожухом вокруг дверцы топки. Верхняя часть кожуха выполнена в виде арки, приваренной к передней стенке печки по дуге окружности с центром в середине нижней части кожуха (рис. 2). Для установки печки хозяину понадобилось узнать радиус закругления арки R . Размеры кожуха в сантиметрах показаны на рисунке. Найдите радиус закругления арки в сантиметрах.

Ответ: _____.

- 6 Найдите значение выражения $45 + 0,6 \cdot (-10)^2$.

Ответ: _____.

7 На координатной прямой отмечены числа a и b .



Какое из приведённых утверждений для этих чисел **неверно**?

- 1) $a + b > 0$ 2) $a - b < 0$ 3) $ab > 0$ 4) $ab^2 < 0$

Ответ:

8 Найдите значение выражения $\sqrt{\frac{1}{16} \cdot x^6 y^4}$ при $x = 2$ и $y = 5$.

Ответ: _____.

9 Найдите корень уравнения $4(x + 10) = -1$.

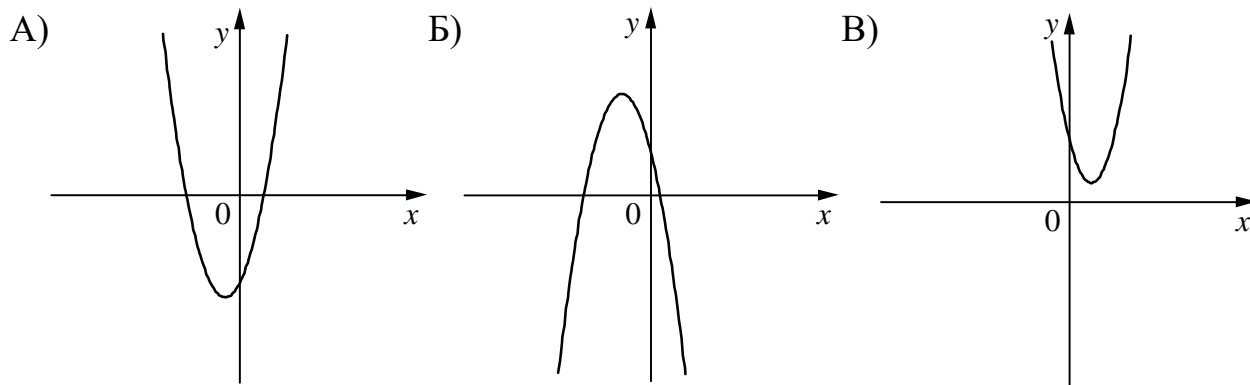
Ответ: _____.

10 В среднем из 75 карманных фонариков, поступивших в продажу, девять неисправных. Найдите вероятность того, что выбранный наудачу в магазине фонарик окажется исправен.

Ответ: _____.

- 11** На рисунках изображены графики функций вида $y = ax^2 + bx + c$. Установите соответствие между графиками функций и знаками коэффициентов a и c .

ГРАФИКИ



КОЭФФИЦИЕНТЫ

- 1) $a > 0, c < 0$ 2) $a < 0, c > 0$ 3) $a > 0, c > 0$

В таблице под каждой буквой укажите соответствующий номер.

Ответ:

А	Б	В

- 12** Закон Кулона можно записать в виде $F = k \cdot \frac{q_1 q_2}{r^2}$, где F — сила взаимодействия зарядов (в ньютонах), q_1 и q_2 — величины зарядов (в кулонах), k — коэффициент пропорциональности (в $\text{Н} \cdot \text{м}^2 / \text{Кл}^2$), а r — расстояние между зарядами (в метрах). Пользуясь формулой, найдите величину заряда q_1 (в кулонах), если $k = 9 \cdot 10^9 \text{ Н} \cdot \text{м}^2 / \text{Кл}^2$, $q_2 = 0,0007 \text{ Кл}$, $r = 500 \text{ м}$, а $F = 0,0504 \text{ Н}$.

Ответ: _____.

- 13** Укажите неравенство, которое **не имеет** решений.

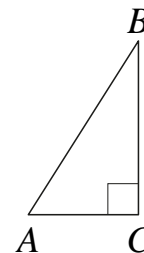
- 1) $x^2 - 8x - 83 > 0$ 3) $x^2 - 8x - 83 < 0$
 2) $x^2 - 8x + 83 < 0$ 4) $x^2 - 8x + 83 > 0$

Ответ:

- 14** В ходе распада радиоактивного изотопа его масса уменьшается вдвое каждые 9 минут. В начальный момент масса изотопа составляла 400 мг. Найдите массу изотопа через 36 минут. Ответ дайте в миллиграммах.

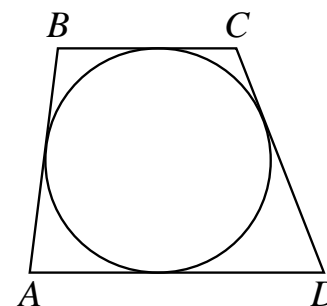
Ответ: _____.

- 15** В треугольнике ABC угол C равен 90° , $\sin B = \frac{4}{11}$, $AB = 55$. Найдите AC .



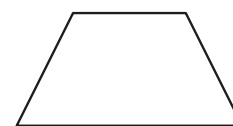
Ответ: _____.

- 16** Трапеция $ABCD$ с основаниями AD и BC описана около окружности, $AB = 12$, $BC = 8$, $CD = 14$. Найдите AD .



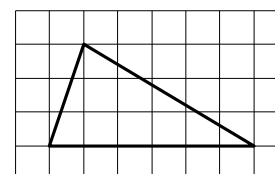
Ответ: _____.

- 17** В равнобедренной трапеции сумма двух углов равна 352° . Найдите меньший угол этой трапеции. Ответ дайте в градусах.



Ответ: _____.

- 18** На клетчатой бумаге с размером клетки 1×1 изображён треугольник. Найдите его площадь.



Ответ: _____.

19 Какое из следующих утверждений верно?

- 1) Площадь квадрата равна произведению двух его смежных сторон.
- 2) Диагональ трапеции делит её на два равных треугольника.
- 3) Если две стороны одного треугольника соответственно равны двум сторонам другого треугольника, то такие треугольники равны.

В ответе запишите номер выбранного утверждения.

Ответ:

Часть 2

При выполнении заданий 20–25 используйте отдельный лист бумаги. Сначала укажите номер задания, а затем запишите его решение и ответ. Пишите чётко и разборчиво.

20

Решите систему уравнений
$$\begin{cases} (x-6)(y-8)=0, \\ \frac{y-5}{x+y-11}=3. \end{cases}$$

21

Первая труба пропускает на 13 литров воды в минуту меньше, чем вторая труба. Сколько литров воды в минуту пропускает вторая труба, если резервуар объёмом 208 литров она заполняет на 8 минут быстрее, чем первая труба?

22

Постройте график функции

$$y = \frac{1}{2} \left(\left| \frac{x}{1,5} - \frac{1,5}{x} \right| + \frac{x}{1,5} + \frac{1,5}{x} \right).$$

Определите, при каких значениях t прямая $y = t$ имеет с графиком ровно одну общую точку.

23

Отрезки AB и CD являются хордами окружности. Найдите расстояние от центра окружности до хорды CD , если $AB = 20$, $CD = 48$, а расстояние от центра окружности до хорды AB равно 24.

24

Биссектрисы углов C и D параллелограмма $ABCD$ пересекаются в точке L , лежащей на стороне AB . Докажите, что L — середина AB .

25

Точки M и N лежат на стороне AC треугольника ABC на расстояниях соответственно 12 и 45 от вершины A . Найдите радиус окружности, проходящей через точки M и N и касающейся луча AB , если $\cos \angle BAC = \frac{\sqrt{15}}{4}$.