

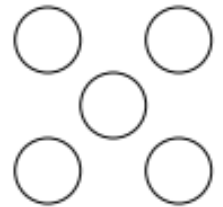
Математический кружок 6 класса в школе 1543.
Разнобой с матпраздника. Зелёные.

1 (Письменно) На батоне колбасы нарисованы тонкие поперечные кольца. Если разрезать по красным кольцам, получится 5 кусков, если по желтым — 7 кусков, а если по зеленым — 11 кусков. Сколько кусков колбасы получится, если разрезать по кольцам всех трех цветов?

2 У Незнайки есть пять карточек с цифрами: **1**, **2**, **3**, **4** и **5**. Помогите ему составить из этих карточек два числа — трёхзначное и двузначное — так, чтобы первое число делилось на второе.


3 В маленьком городе только одна трамвайная линия. Она кольцевая, и трамваи ходят по ней в обоих направлениях. На кольце есть остановки Цирк, Парк и Зоопарк. От Парка до Зоопарка путь на трамвае через Цирк втрое длиннее, чем не через Цирк. От Цирка до Зоопарка путь через Парк вдвое короче, чем не через Парк. Какой путь от Парка до Цирка — через Зоопарк или не через Зоопарк — короче и во сколько раз?

4 **a** Впишите в каждый кружочек по цифре, отличной от нуля, так, чтобы сумма цифр в двух верхних кружочках была в 7 раз меньше суммы остальных цифр, а сумма цифр в двух левых кружочках — в 5 раз меньше суммы остальных цифр.



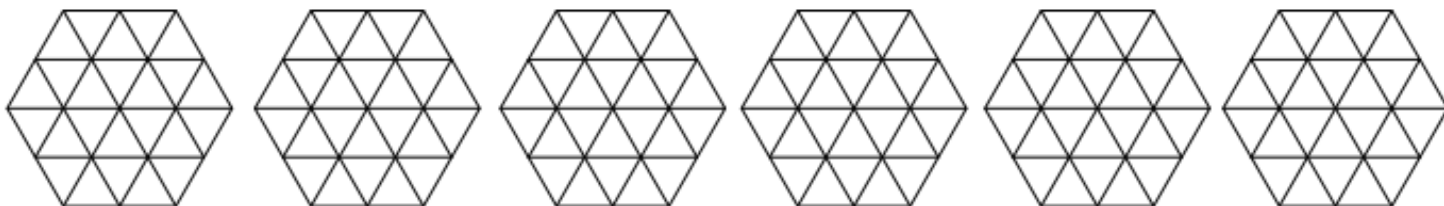
b (Письменно) Докажите, что задача имеет единственное решение.

5 (Письменно) Равносторонний треугольник со стороной 8 разделили на равносторонние треугольнички со стороной 1 (см. рис.). Какое наименьшее количество треугольничков надо закрасить, чтобы все точки пересечения линий (в том числе и те, что по краям) были вершинами хотя бы одного закрашенного треугольничка? Приведите пример и докажите, что меньшее количество треугольничков закрасить нельзя.



Математический кружок 6 класса в школе 1543.
Разной с матпраздника. Зелёные. Добавка.

6 Разрежьте нарисованный шестиугольник на четыре одинаковые фигуры. Резать можно только по линиям сетки.



7 В лесу живёт 40 зверей — лисицы, волки, зайцы и барсуки. Ежегодно они устраивают бал-маскарад: каждый надевает маску животного другого вида, причём два года подряд они одну и ту же маску не носят. Два года назад на балу было 12 «лисиц» и 28 «волков», год назад — 15 «зайцев», 10 «лисиц» и 15 «барсуков», а в этом году — 15 «зайцев» и 25 «лисиц». Каких зверей в лесу больше всего?

8 Известный преступник профессор Мориарти долго скрывался от Шерлока Холмса и лондонской полиции. И вот однажды полицейским удалось перехватить телеграмму, которую Мориарти прислал сообщнику:

Встречай завтра поезд СТО вагон О

Инспектор Лестрейд уже распорядился было послать наряд полиции искать нулевой вагон сотого поезда, но тут принесли еще две перехваченные телеграммы на тот же адрес:

СЕКРЕТ – ОТКРОЙ = ОТВЕТ – ТВОЙ

СЕКРЕТ – ОТКРЫТ = 20010


Лестрейд задумался. А Холмс воскликнул: «Теперь ясно, какой поезд надо встречать!» Инспектор удивился. «Элементарно, Лестрейд! — пояснил сыщик. — Это же шифр. В этих примерах одинаковые буквы обозначают одинаковые цифры, разные — разные, а черточка — это минус! Мориарти едет в поезде № ...» Напишите номер поезда и вагона. Объясните, как мог рассуждать Холмс.

<https://olympiads.mccme.ru/matprazdnik/>

<https://reg.olimpiada.ru/register/mosh-math-2022-6-7/>



Сайт



Регистрация